

第1回

社会問題

〔注意事項〕

1. 試験開始の合図があるまで、開かないこと。
2. 問題は①～⑤までで、12ページにわたって印刷してあります。
ページが抜けるなどしていた場合には、試験監督の先生に申し出なさい。
3. 解答は、すべて解答用紙に記入し、受験番号・氏名をもれなく、正確に記入すること。
4. 問題冊子の表紙にも、受験番号・氏名を必ず記入すること。
5. 問題に掲載の図表などのうち、注のないものは小学校の検定済教科書より引用してあります。
6. ①～⑤の答えは、特に指示がないときは、各問の(あ)～(え)の中から正しいものを一つ選び、記号で答えなさい。
7. 都道府県の地図の縮尺はそれぞれ異なります。また島などの一部は省かれています。

受験番号	氏名

①～⑤の答えは、特に指示がないときは、各問の(あ)～(え)の中から正しいものを一つ選び、記号で答えなさい。

① ねねさんは、九州の県についてまとめました。これを読み、あとの問いに答えなさい。

さが 佐賀県

◆ 自然

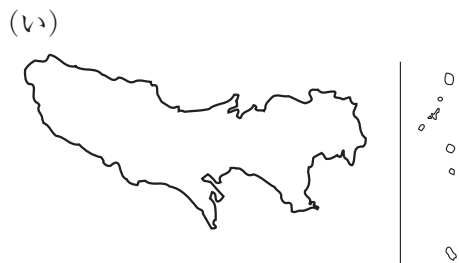
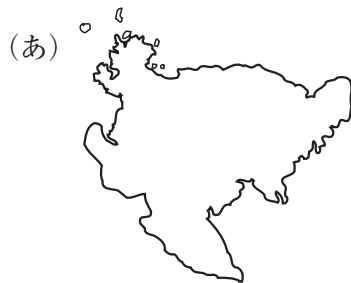
・ 有明海ありあけかいは佐賀県の南部に広がる海です。
この海の特徴は、(1)

?

[問1]

佐賀県の地図

[問1] 佐賀県の形として正しいものはどれですか。



[問2] (1)にあてはまる正しい文章はどれですか。

- (あ) 沖には暖流の対馬海流が流れていることです。
 (い) 沖には暖流と寒流がぶつかる潮目があり、好漁場になっていることです。
 (う) 沖までいっても海の深さが数m程度の深さの海底が続いていることです。
 (え) 沖には水深1万m近い深い海溝があることです。

◆ 農林水産業

[1] 農 業

- ・佐賀県を代表する果物にイチゴがあります。なかでも (2) は、香りの良さと上品なあまさが人気です。近年は、まっかな色をした、「いちごさん」という品種の生産量が増えてきました。
 ・嬉野茶…独特のまるい葉が特徴で、①香りや旨味が強いです。

[問3] (2)にあてはまるイチゴの品種名はどれですか。

- (あ) ひごのしずく (い) さがほのか
 (う) とちあいか (え) とちおとめ

[問4] 下線部①について、嬉野茶は加工されたあと、主にどの飲み物になりますか。

- (あ) 紅茶 (い) 麦茶 (う) 緑茶 (え) 烏龍茶

[2] 水産業

・有明海しゅうかくで収穫される海藻かいそうの一種である（ 3 ）は、高級品として知られています。おにぎりを作る時に欠かせません。

◆ 伝統工芸

・唐津からつ・伊万里いまり・有田ありたは、日本を代表する伝統工芸品である（ 4 ）の産地として有名です。

[問5]（ 3 ）にあてはまる海藻はどれですか。

- (あ) ワカメ (い) ヒジキ (う) コンブ (え) ノリ

[問6]（ 4 ）にあてはまる伝統工芸品はどれですか。

- (あ) 漆器しつき (い) 陶磁器とうじき (う) 刃物はもの (え) 人形

ながさき
長崎県

◆ 自然

・長崎県は、日本で二番目に（ 5 ）県として有名です。

・県内で一番面積の広い島は（ 6 ）です。

・1991年には島原半島しまばらにある（ 7 ）がだいふんか大噴火し、
大きな被害ひがいが出ました。

?

[問7]

長崎県の地図

[問7] 長崎県の形として正しいものはどれですか。

(あ)



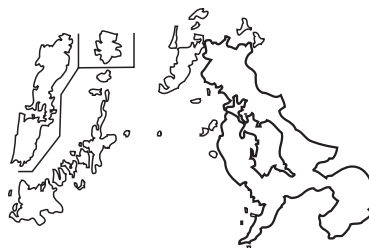
(い)



(う)



(え)



[問8] (5)にあてはまる正しい文章はどれですか。

(あ) 海岸線が長い

(い) 面積が広い

(う) 外国人の登録者数が多い

(え) 高齢者の人口が多い

[問9] (6)にあてはまる島はどれですか。

(あ) 種子島

(い) 壱岐

(う) 対馬

(え) 屋久島

[問10] (7)にあてはまる山はどれですか。

(あ) 霧島山

(い) 雲仙普賢岳

(う) 八ヶ岳

(え) 阿蘇山

◆ 農林水産業

- ・長崎半島の茂木は、(8)の栽培さいばいで知られています。長崎県における(8)の生産量は全国で第1位です。
- ・長崎県では1年に2回(9)の収穫しゅうかくができることから、この野菜の生産量が、全国で第2位です。(9)の生産量が、全国で第1位なのは、北海道です。

◆ 工業

- ・離島りとうがたくさんあり、漁業さかも盛んなことから、(10)が発展してきました。

◆ 観光

- ・オランダの街並まちなみを再現した、単独のテーマパークとしては日本で最も広い(11)があります。春には、世界的に有名なオランダの公園のように、約100万本のチューリップが咲きほこります。

◆ 交通

- ・2022年の9月に西九州新幹線が開業し「(12)」が運行を開始しました。

[問11] (8)にあてはまる果物はどれですか。下の写真も参考にして答えなさい。

- (あ) いちご (い) メロン (う) びわ (え) もも

[問12] (9) にあてはまる野菜はどれですか。

- (あ) ジャガイモ (い) サツマイモ (う) ハクサイ (え) ニンジン

[問13] (10) にあてはまる工業名はどれですか。

- (あ) 自動車工業 (い) 造船業
(う) 出版・印刷業 (え) 石油化学工業


[問14] (11) にあてはまるテーマパークはどれですか。


- (あ) ディズニーランド (い) アドベンチャーワールド
(う) レゴランド (え) ハウステンボス


[問15] (12) にあてはまる新しい新幹線の列車名はどれですか。


- (あ) かもめ (い) こまち (う) つばさ (え) のぞみ


- 2 みらいさんは、歴史上で活躍した人物のカードを作りました。それをクラスで発表することになり、テーマを「歴史上で活躍した女性」としました。準備をしていると、選んだ人物の中に男性がまぎれこんでいることに気がつきました。


①  卑弥呼 ひみこ
239年、魏に
使いを送った。

②  中臣鎌足 なかとみのかまたり
645年、大化の
改新をおこなった。

③  清少納言 せいしょうなごん
かな文字で貴族の
暮らしや人びとの
感情をえがいた。

④  北条政子 ほうじょうまさこ
1221年の戦い
で武士を団結させ、
朝廷に勝利した。

⑤  津田梅子 つただうめこ
1871年にアメ
リカへ日本人初の
留学をした。

⑥  平塚らいてう ひらつか
女性の地位の向上
をめざす運動を始
めた。

[問1] ①～⑥の人物のうち、男性のカードはどれですか。番号で答えなさい。

[問2] ①の人物について、この人物が治めていた国を何といいますか。

[問3] ②の人物とともに大化の改新をおこなった皇子は、やがて天皇となりました。天皇としての名前は、次のうちどれですか。

- (あ) 推古天皇 (い) 聖武天皇 (う) 天智天皇 (え) 桓武天皇

[問4] ③の人物が書いた文学作品は、次のうちどれですか。

- (あ) 『源氏物語』 (い) 『枕草子』
(う) 『平家物語』 (え) 『万葉集』

[問5] ④の人物が勝利にみちびいた、1221年に起こった戦いを何といいますか。

- (あ) 承久の乱 (い) 保元の乱 (う) 平治の乱 (え) 応仁の乱

[問6] ⑤について、この人物は、ある使節団に同行することで、アメリカに留学することができました。この使節団の主な目的はどれですか。

- (あ) 領土の拡大 (い) 不平等条約の改正
(う) 戦争の終結 (え) 同盟の締結

[問7] ⑥について、この人物が発刊した雑誌は次のうちどれですか。

- (あ) 『学問のすすめ』 (い) 『青鞥』
(う) 『古事記伝』 (え) 『奥の細道』

[問8] 発表を始める前に、女性が1人少なくなってしまったので、その代わりに次の4人の候補を考えました。

- ① 紫式部 ② 与謝野晶子 ③ 樋口一葉 ④ 市川房枝

①～④の中から1人選び、その番号を書き、カードにならってその人物について10字～20字程度で説明文をつくりなさい。

3 大日本帝国憲法について、あとの問いに答えなさい。

[問1] 憲法制定の中心だった、初代の内閣総理大臣は誰ですか。

- (あ) 岩倉具視 (い) 坂本竜馬 (う) 吉田茂 (え) 伊藤博文

[問2] 憲法が制定された後、日本はいくつかの戦争を経験することとなりました。次にあげる戦争を起きた順に並べなさい。

- ①第一次世界大戦 ②日清戦争 ③日露戦争 ④第二次世界大戦

[問3] 憲法が制定された後の1901年、足尾銅山の公害問題を天皇に直訴したことで知られる政治家は誰ですか。

- (あ) 西郷隆盛 (い) 田中正造
(う) 東郷平八郎 (え) 北里柴三郎

[問4] 次に起こったできごとのなかで1つだけ、憲法の制定よりも前に起こったできごとがあります。それはどれですか。

- (あ) 韓国併合 (い) 満州事変 (う) 大政奉還 (え) 関東大震災

4 日本の国会のしくみについて、あとの問いに答えなさい。

国会は①国民に選ばれた代表者が話し合って、②国民のために法律をつくつたり、予算を決めたりする大切な機関です。

国会では2つの議院が、それぞれ独立して話し合いをすることで、国の大切な決定を慎重に行うことができますようにしています。

[問1] ①のことを何といいますか。

[問2] ②を行うことから、国会は日本国憲法で、次のように定められています。

(1) と (2) に当てはまる言葉の組み合わせとして正しいものはどれですか。

「国会は国権の (1) 機関であり、国の唯一の (2) 機関」

(あ) (1) 最高・(2) 司法 (い) (1) 最高・(2) 立法

(う) (1) 高等・(2) 司法 (え) (1) 高等・(2) 立法

[問3] 2022年7月に行われた選挙は、どの議会に関するものですか。

(あ) 上院 (い) 下院 (う) 衆議院 (え) 参議院

5 下の表を見て、あとの問いに答えなさい。

〈2022年 報道特集 世界のニュース〉


2月 ①冬季オリンピック、日本のメダル過去最多18個（2月20日）
②ロシア軍、ウクライナを侵攻へ（2月24日）

4月 ③フランス大統領選、マクロン氏が再選（4月24日）

5月 ④〇〇県、本土に復帰して50年（5月15日）

7月 ⑤香港、返還され25年が経過（7月1日）
⑥イギリス、ジョンソン首相が辞意を表明（7月7日）

8月 中国、⑦記録的猛暑で深刻な自然災害が続く
（8月24日）



JMN+文字ニュース

〔問1〕 ①について、冬季オリンピックの開催地はどこでしたか。


- (あ) 東京 (い) 北京 (う) パリ (え) ロンドン

〔問2〕 ②について、次の〔1〕・〔2〕の問いに答えなさい。

〔1〕 ウクライナに侵攻したときの、ロシア連邦の大統領の写真はどれですか。

〔2〕 ロシア軍から侵攻を受けたときの、ウクライナの大統領の写真はどれですか。

- (あ) ゼレンスキー (い) マリン (う) プーチン (え) バイデン



[問3] ③について、マクロン氏の写真はどれですか。

(あ)



(い)



(う)



(え)



[問4] ④について、この県はどこですか。

[問5] ⑤について、香港は25年前まで、どこの国の植民地でしたか。

- (あ) アメリカ合衆国^{がっしゅうこく} (い) イギリス
(う) スペイン (え) ドイツ

[問6] ⑥について、イギリスが2020年に離脱^{りだつ}を決めた組織^{そしき}はどれですか。

- (あ) EU (欧州連合)^{イーユー おうしゅう}
(い) AU (アフリカ連合)^{エーユー}
(う) ASEAN (東南アジア諸国連合)^{アセアン}
(え) UNESCO (国際連合教育科学文化機関)^{ユネスコ}

[問7] ⑦によって起こった自然災害は何ですか。

- (あ) 津波^{つなみ} (い) 地震^{じしん} (う) 干ばつ^{かん} (え) 火山噴火^{ふんか}