

## 第1回

# 社会問題

## 〔注意事項〕

1. 試験開始の合図<sup>あいず</sup>があるまで、問題冊子<sup>さっし</sup>を開かないこと。
2. 問題は14ページに渡<sup>わた</sup>っており、**1**～**4**で構成されている。  
ページの抜けや印刷不備<sup>ぬ</sup>があった場合には、直ちに試験監督<sup>かんとく</sup>の先生に申し出ること。
3. 解答はすべて解答用紙に記入し、受験番号・氏名をもれなく、正確に記入すること。
4. 問題冊子の表紙にも、受験番号・氏名を必ず記入すること。
5. 問題<sup>けいさい</sup>に掲載されている図表などのうち、出典<sup>しゅてん</sup>の記載<sup>きざい</sup>がないものは、小学校の検定済教科書から引用したものである。
6. **1**～**4**の設問の解答は、特に指示がない場合、各問の(あ)～(え)の中から正しいものを一つ選び、記号で答えること。
7. 都道府県の地図の縮尺はそれぞれ異なる。また、島などの一部が省略されている場合がある。

受験番号	氏名

①～④の答えは、特に指示がないときは、各問の(あ)～(え)の中から正しいものを一つ選び、記号で答えなさい。

- 1 東京都に住むさゆりさんは大阪万博へ行くため、大阪府について調べてまとめました。これを読み、あとの問いに答えなさい。

大阪府は近畿<sup>きんき</sup>地方にあり、( 1 )・京都府・奈良県・和歌山県に接しています。

東京都から大阪府に行く方法としては、( 2 )新幹線があります。最も速い「のぞみ」に乗れば約2時間半で行くことができます。

?

[問3]

大阪府の地図

[問1] ( 1 )にあてはまる県はどれですか。

(あ) 鳥取県 (い) 滋賀県 (う) 兵庫県 (え) 三重県

[問2] ( 2 )にあてはまるものはどれですか。

(あ) 東海道 (い) 山陽 (う) 東北 (え) 上越<sup>じょうえつ</sup>

[問3] 大阪府の形として正しいものはどれですか。



大阪府の人口は約875万人で、( 3 )に次いで全国3番目の多さです。①在留外国人数<sup>※</sup>も東京都、愛知県に次いで全国で3番目に多いです。

※勉強や仕事のために長い期間日本に滞在する外国人の数

	総人口
東京都	14178
( 3 )	9225
大阪府	8757
愛知県	7460
埼玉県	7332

(単位：千人)

(2024年10月1日現在)

[問4] ( 3 )にあてはまる県はどれですか。

- (あ) 北海道      (い) 千葉県      (う) 神奈川県      (え) 福岡県

[問5] 下線部①について、さゆりさんは大阪府と東京都の在留外国人の国籍<sup>こくせき</sup>上位5カ国を調べてみました。下の表について、次の〔1〕・〔2〕の問いに答えなさい。

	東京都	大阪府
中国	225098	69101
韓国	85752	89305
ベトナム	36708	47577
ネパール	27349	10069
フィリピン	33616	10173

(単位：人)

(2022年 出入国在留管理庁統計より作成)

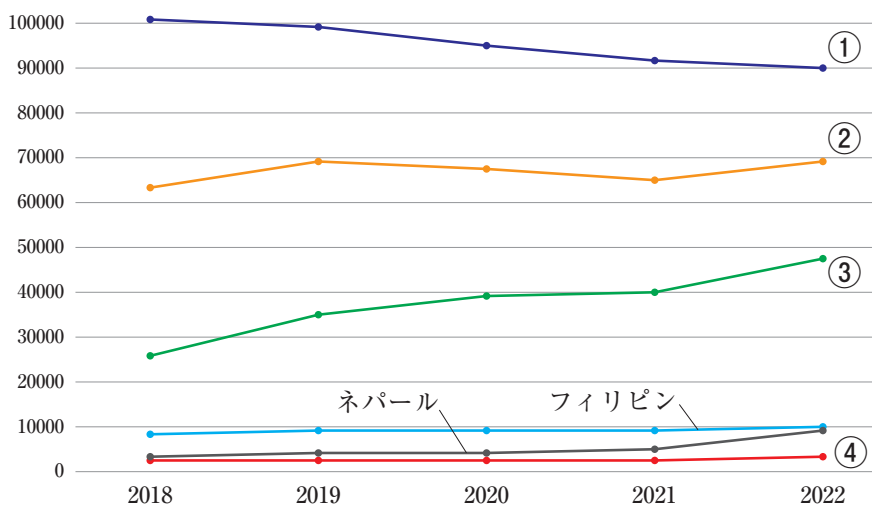
〔1〕 表から読み取れることとして正しくないものはどれですか。

- (あ) 東京都は中国人が最も多いが、大阪府は韓国人<sup>かんこく</sup>が最も多い。
- (い) 東京都にいる中国人は、大阪府の韓国人の3倍以上の人数である。
- (う) 大阪府の上位5カ国の外国人の総数は東京都の中国人の人数とほぼ同数である。
- (え) 東京都と大阪府の上位5カ国の外国人の総数は東京都の方が多く、ベトナム人は大阪府の方が多く。

〔2〕 大阪府の在留外国人の国籍上位5カ国はすべて同じ地域の国々です。次のうちどれですか。

- (あ) ヨーロッパ
- (い) アジア
- (う) アフリカ
- (え) オセアニア

[問6] 下線部①について、さゆりさんは2018～2022年における大阪府の在留外国人の推移についてグラフをつくりました。①～④はそれぞれ、アメリカ、中国、韓国、ベトナムのいずれかを示しています。このグラフについて、次の〔1〕・〔2〕の問いに答えなさい。



(大阪府 大阪府内の国籍・地域(出身地)別在留外国人数(2022年)より作成)

〔1〕 5年間で最も増加率の高い国は①～④のうちどれですか。数字を解答らんに書きなさい。

〔2〕 5年間で最も増加率の高い国はどれですか。問5の表を参考にして選びなさい。

(あ) アメリカ      (い) 中国      (う) 韓国      (え) ベトナム

江戸時代には大阪に全国から物資が集まっていた。今でも大阪府にはさまざまな産業が集まっており、東京都に次ぐ経済の中心地になっています。

大阪府・東京都・福岡県の産業を比べた表をつくりました。

	産業別事業所数の割合			事業所数	製造業事業所数
	第1次産業(%)	第2次産業(%)	第3次産業(%)		
大阪府	0.3	21.1	78.6	356,286	18,604
東京都	0.3	14.3	85.5	586,088	15,400
福岡県	2.1	21.0	76.9	195,723	6,044

(日本国勢図会 2025/26 より作成)

第1次産業とは農業・<sup>ほくちく</sup>牧畜業・林業・水産業などをさします。第2次産業は( 5 )など、第3次産業は( 6 )などをさします。この表をみると、全ての都道府県で( 7 )の割合が高いことがわかります。

大阪府は事業所数が東京都よりも( 8 )けれど、製造業の事業所数は東京都よりも( 9 )ことがわかります。( 10 )の割合に表れていると感じました。

[問7] ( 5 )・( 6 )にあてはまる説明の組み合わせとして正しいものはどれですか。(あ)・(い)から1つ選びなさい。

(あ) ( 5 ) 鉱業・製造業・建設業 ( 6 ) 商業・<sup>きんゆう</sup>金融業・サービス業

(い) ( 5 ) 商業・金融業・サービス業 ( 6 ) 鉱業・製造業・建設業

[問8] ( 7 )にあてはまる語句はどれですか。(あ)～(う)から1つ選びなさい。

(あ) 第1次産業 (い) 第2次産業 (う) 第3次産業

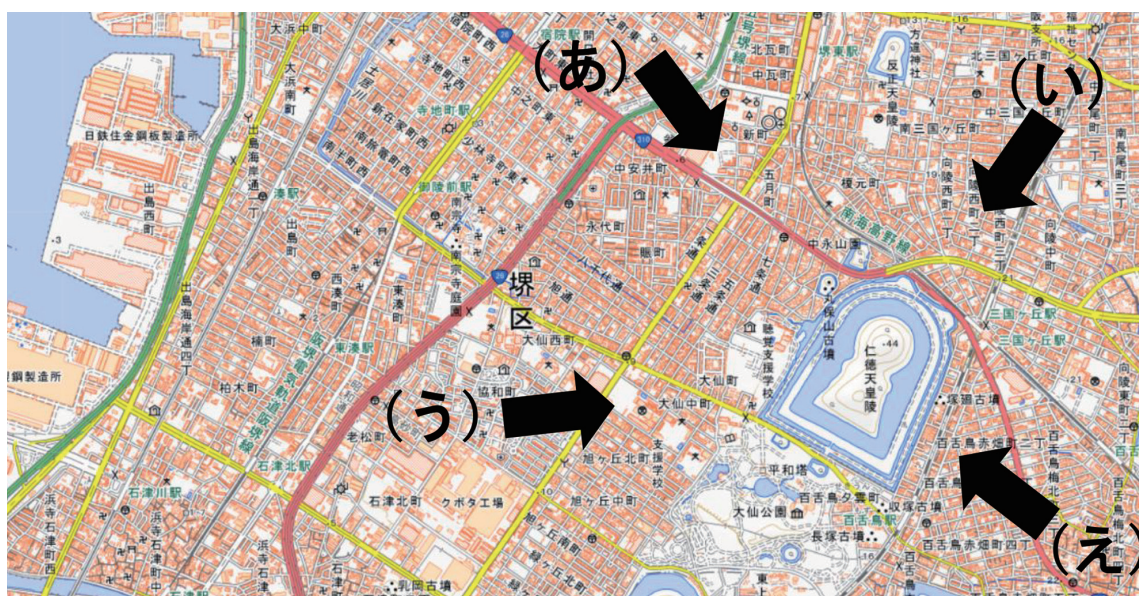
[問9] ( 8 )・( 9 )にあてはまる言葉の組み合わせとして正しいものはどれですか。

- (あ) ( 8 ) 多い ( 9 ) 多い
- (い) ( 8 ) 多い ( 9 ) 少ない
- (う) ( 8 ) 少ない ( 9 ) 多い
- (え) ( 8 ) 少ない ( 9 ) 少ない

[問10] ( 10 )にあてはまる言葉はどれですか。(あ)～(う)から1つ選びなさい。

- (あ) 第1次産業
- (い) 第2次産業
- (う) 第3次産業

大阪府の土地の様子を地理院地図(電子国土Web)を使って見てみると、  
 ②古い時代にできたものと、③新しい時代にできたものが混在していることがわかります。



(電子地形図 25000 (国土地理院)を加工して作成)

[問11] 下線部②について、次の写真は仁徳天皇陵<sup>にんとくてんのうりょう</sup>と周囲の町並み<sup>と</sup>を撮ったものです。  
地図中の(あ)～(え)のどの方向から撮ったものですか。



[問12] 下線部③について、海沿いの工場(製造所)が建ち並んでいるところは新しい時代にできた場所です。この土地のつくられ方として正しいものはどれですか。

- (あ) 砂が自然に堆積<sup>たいせき</sup>してできた。
- (い) 海底が盛り上がってできた。
- (う) 人工的に埋め立<sup>う</sup>てた。
- (え) 海に堤防<sup>ていぼう</sup>をつくって干拓した。

2 日本の歴史における「道具」について、あとの問いに答えなさい。

[問1] 弥生時代には「石包丁」という道具が使用されていたことが知られています。  
この道具の使い方について、正しいものはどれですか。

- (あ) 取ってきた草を細かく切るために使用した
- (い) 動物の肉を切り分けるために使用した
- (う) 稲の穂をかり取るために使用した
- (え) 米をとぐために使用した

[問2] 古墳時代には、古墳の上部にたくさんのある道具が並んでいた、と考えられています。土をとめる、死者を送る儀礼をあらわす、などの役割を持っていた、と考えられるこの道具はどれですか。

- (あ) 土偶
- (い) 埴輪
- (う) 勾玉
- (え) 銅鏡

[問3] 飛鳥時代になって、古墳にかわって権力を示す道具として建てられるようになったのが、寺院でした。聖徳太子が建てたことで有名な、現存する世界最古の木造建築である寺院はどれですか。

- (あ) 東大寺
- (い) 興福寺
- (う) 法隆寺
- (え) 唐招提寺

[問4] 8世紀初めには律令ができあがり、税の制度によって都には日本各地から多くの産物が運ばれ、天皇を中心とする国づくりを支えました。それらを管理するために用いられた木の札の名前を何とといいますか。

[問5] 室町時代には、特別な道具でなく、石や砂を用いて山や水を表す様式の石庭があります。このような庭を何とといいますか。

- (あ) 床の間
- (い) 枯山水
- (う) すみ絵
- (え) 書院造

[問6] 江戸時代には、さまざまな農具が改良され、生産力が高まりました。改良された農具はどれですか。

- (あ) 千歯こき      (い) 踏み絵      (う) 飛脚      (え) 鉄砲

[問7] 江戸時代の中ごろに人気となった浮世絵は、多色刷りでえがかれていました。多色刷りに関わった人々として、最もふさわしくない人はどれですか。

- (あ) 版木をほる人      (い) 下絵を描く人  
(う) 脚本を書く人      (え) 重ね刷りをする人

[問8] 江戸時代の町や村には、読み書きやそろばんなど、生活に必要な知識を広く学ぶ教育機関が各地にできました。この教育機関を何といいますか。

- (あ) 小学校      (い) 聖堂学問所      (う) 寺子屋      (え) 藩校

[問9] 明治時代に鉄道は最初、新橋とどこの間で開通しましたか。

- (あ) 東京      (い) 横浜      (う) 大阪      (え) 京都

[問10] 明治政府が「近代国家」として成立するためには、憲法を持ち、それにもとづいた政治が行われることが大切でした。その意味で、大日本帝国憲法はとても重要でした。大日本帝国憲法の内容として、正しくないものはどれですか。

- (あ) 貴族院は国民の選挙によって選ばれる  
(い) 内閣は天皇の政治を補佐する  
(う) 枢密院は天皇の質問に答える  
(え) 天皇は陸軍・海軍を指揮・統率する

[問11] 明治時代には、日本の産業を発展させるために外国から機械が輸入され、製糸業や紡績業ほうせきがさかんになりました。これらの工場こうじょうで朝早くから夜おそくまではたらく女性を何とといいますか。

- (あ) 新婦人      (い) モダンガール      (う) 義太夫ぎだゆう      (え) 工女


[問12] 1925年には、新聞と並ぶあるものの放送が始まり、人々の情報源となりました。これは何ですか。

- (あ) ラジオ放送      (い) 白黒テレビ放送  
(う) カラーテレビ放送      (え) 校内放送

[問13] 1944年になるとアメリカ軍は東京や大阪など多くの都市を爆撃ばくげきし、焼け野原としました。この攻撃こうげきは、どのような方法で行われましたか。

- (あ) 近くの島から砲撃ほうげきする  
(い) 飛行機から焼夷弾しょういだんを落とす  
(う) 船が近づいてきて砲撃する  
(え) アメリカ大陸からミサイル砲を飛ばす

- 3 下の図は、ある裁判が行われた場所(=法廷)のようすを絵にしたものです。これを見て、あとの問いに答えなさい。



[問1] この裁判は、ある事件について、訴えられた人(=被告人)が、有罪か無罪かを決める裁判です。これを何と呼びますか。

- (あ) 欠席裁判 (い) 民事裁判 (う) 刑事裁判 (え) 行政裁判

[問2] 絵の中で、左がわにいる①は、訴える側の人物です。①の人の職業は何ですか。

- (あ) 検察官 (い) 警察官 (う) 刑務官 (え) 外交官

[問3] ①の人が、書類を読み上げています。これについて述べた文章として、正しいものはどれですか。

- (あ) この法廷に、出席している人の名簿めいぼを読み上げている。
- (い) この法廷で、事件に関する証拠書類しょうこを読み上げている。
- (う) この法廷に、必要となったお金(=経費けいひ)の合計を読み上げている。
- (え) この法廷で、災害さいがいがあった時の避難経路ひなんけいろを読み上げている。

[問4] 絵の中で、②の3人は同じ職業の人物です。それは何ですか。解答らん(解答欄)に書きなさい。

[問5] 下の文章は、裁判のはじめに、②から被告人に対して述べられる言葉です。

ここで、被告人に注意しておくことがあります。  
被告人には、【            】権という権利があります。答えたくない質問には答えなくてもかまいません。最初から最後まで、ずっとだまっていることもできます。

文中の【            】にあてはまる言葉を、解答らん(解答欄)に書きなさい。

[問6] この裁判で、被告人は有罪判決はんけつを受けましたが、弁護人は、次の裁判を要求しました。1回目の判決が不服ふふくだった場合に、2回目の裁判を要求することを何といいますか。

- (あ) 上告じょうこく
- (い) 直訴じきそ
- (う) 通告つうこく
- (え) 控訴こうそ

4 2025年に起こった、日本国内のできごとについて、あとの問いに答えなさい。

### 2025のニュース総復習「家族みんなで知りたい 日本のできごと」

愛知県で 大量のニワトリが「鳥【 1 】」陽性とわかる（1月9日）


大の里 第74代①横綱になる（2月3日）

長く活動してきた 浜岡の【 2 】 ついに解体（3月25日）

「②青切符」が導入される 今後も安全に注意して（5月2日）

携帯電話大手のNTTドコモ 【 3 】業務をはじめる（6月6日）

1997年以来 「【 4 】賞」 「直木賞」 ともに受賞者なし（7月24日）



JMN 十文字ニュース

[問1] 【 1 】にあてはまる病名はどれですか。

- (あ) ヘルパンギーナ      (い) マイコプラズマ  
(う) アデノウイルス      (え) インフルエンザ

[問2] 下線部①について、横綱は、あるスポーツにおける最高の位です。種目はどれですか。

- (あ) <sup>じゅうどう</sup>柔道      (い) 陸上競技      (う) <sup>すもう</sup>相撲      (え) 水泳

[問3] 【 2 】には、日本のエネルギーにとって重要な施設の名が当てはまります。  
次のうちどれですか。

- (あ) ダム      (い) ごみ処理場<sup>しよりじょう</sup>      (う) 保安林<sup>ほあんりん</sup>      (え) 原子力発電所

[問4] 下線部②について、2026年から、「ながらスマホ」など、ある乗り物の運転中の危険な行動について警視庁が取り締まることになりました。ある乗り物の名前を答えなさい。

[問5] 【 3 】について、この会社は、スマートフォンなどを活用し、人々の経済活動を便利にするため、新たな業務をはじめました。その業務とは何ですか。

- (あ) 銀行      (い) 消防署      (う) 駅      (え) 農家

[問6] 【 4 】の賞は、ある作家の名字から生まれたものです。あてはまる名字はどれですか。

- (あ) 菊池<sup>きくち</sup>      (い) 新美<sup>にいみ</sup>      (う) 夏目<sup>なつめ</sup>      (え) 芥川<sup>あくたがわ</sup>