

第3回

社会問題

[注意事項]

1. 試験開始の合図^{あいず}があるまで、問題冊子^{さっし}を開かないこと。
2. 問題は14ページに渡^{わた}っており、**1**～**4**で構成されている。
ページの抜け^ぬや印刷不備^{かんとく}があった場合には、直ちに試験監督^{かんとく}の先生に申し出ること。
3. 解答はすべて解答用紙に記入し、受験番号・氏名をもれなく、正確に記入すること。
4. 問題冊子の表紙にも、受験番号・氏名を必ず記入すること。
5. 問題^{けいさい}に掲載されている図表などのうち、出典^{しゅてん}の記載^{きざい}がないものは、小学校の検定済教科書から引用したものである。
6. **1**～**4**の設問の解答は、特に指示がない場合、各問の(あ)～(え)の中から正しいものを一つ選び、記号で答えること。
7. 都道府県の地図の縮尺はそれぞれ異なる。また、島などの一部が省略されている場合がある。

受験番号	氏名

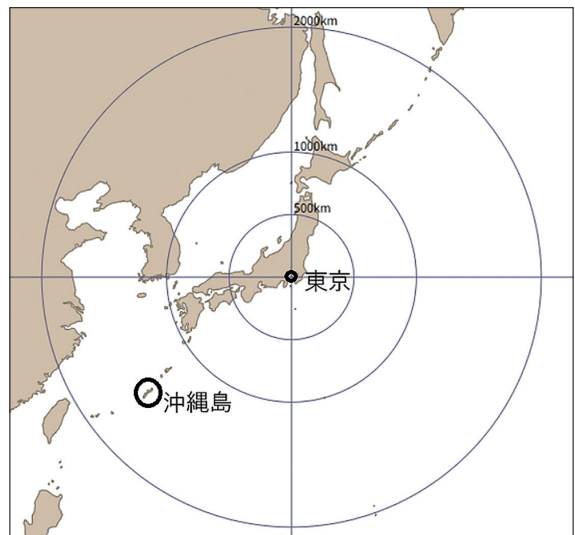
①～④の答えは、特に指示がないときは、各問の(あ)～(え)の中から正しいものを一つ選び、記号で答えなさい。

① りみさんは家族で沖縄県に旅行に行き、旅行の様子をレポートにまとめました。レポートを読み、あとの問いに答えなさい。

2025 夏の沖縄旅行レポート

1. 東京都から沖縄県へ

東京都の羽田空港から沖縄県の(1)空港まで飛行機で約2時間半かかりました。沖縄県は、県庁所在地のある沖縄島と、54の指定離島りとう ふくを含めた多数の島々が点在する県です。右の地図では、東京からみると沖縄島は(2)に位置しています。また、東京から(3)kmはな離れていることがわかります。



「どこでも方位図法より作成」
※この地図は、中心からの距離と方位が正しい地図です

[問1] レポートの(1)にあてはまる沖縄県の県庁所在地はどれですか。

- (あ) 首里 (い) 沖縄 (う) 豊見城とみぐすく (え) 那覇なは

[問2] レポートの(2)にあてはまる方位はどれですか。

- (あ) 北西 (い) 北東 (う) 南西 (え) 南東

[問3] レポートの(3)にあてはまる距離はどれですか。

- (あ) 約500 (い) 約1000 (う) 約1500 (え) 約2000

[問4] レポートの地図をみて読み取れることのうち、正しいものはどれですか。

- (あ) 東京からみて北海道は沖縄島よりも遠い。
 (い) 東京からみて韓国は西に位置している。
 (う) 東京から沖縄島の距離と、東京から九州の距離は同じくらいだ。
 (え) 東京からみて東には大陸がひろがっている。

2025 夏の沖縄旅行レポート

2. 沖縄県の気候

一年を通して温暖で、冬でも平均気温が10度より低くなることはありません。(4)が上陸することも多く、夏の降水量も多いです。旅行中も雨が降ることがありました。

?

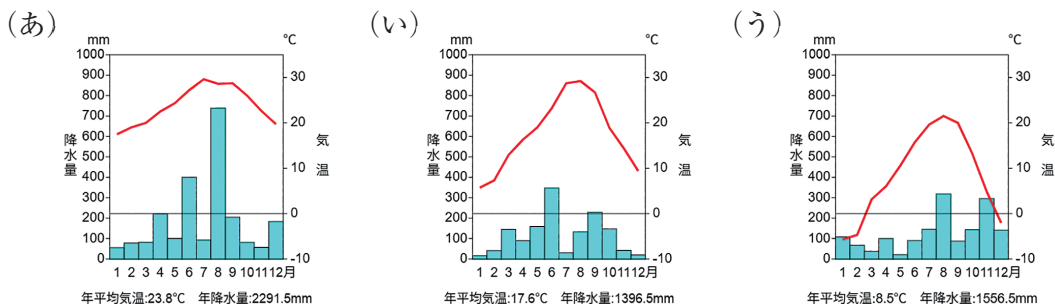
[問6]

雨温図

[問5] レポートの(4)にあてはまるものはどれですか。

- (あ) 台風 (い) トルネード (う) サイクロン (え) ハリケーン

[問6] 沖縄県の雨温図として正しいものはどれですか。(あ)～(う)の中から、正しいものを1つ選びなさい。
 *いずれも令和5年統計で作成



2025 夏の沖縄旅行レポート

3. 沖縄島から久米島へ

①沖縄島の泊港とまりこうから2時間弱フェリーに乗り、離島の久米島くめじまへ行きました。フェリーに乗るために泊港へ向かっている途中、屋根の上にタンクがある家に気がつきました。これは(5)タンクです。沖縄県は、雨は多いけれど、すぐに海にながれてしまうため、このタンクを置いている家があります。

久米島では伝統的な沖縄の家屋もみることができました。②伝統的な家屋にも沖縄の人々の工夫がたくさんありました。

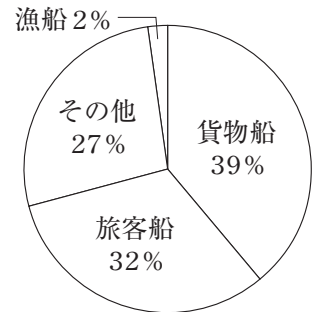


屋根の上にタンクがある家屋



沖縄県の伝統的な家屋(久米島)

[問7] 下線部①について、りみさんは沖縄県の船舶せんぱくについて、その利用目的を調べてみました。すると沖縄県には登録されている船舶せきが全部で127隻あり、利用目的は次のグラフに示した通りでした。このグラフから、りみさんがレポートに書いた考察として正しいものはどれですか。



(沖縄総合事務局運輸部
「運輸要覧(令和5年12月)」
より作成)

- (あ) 貨物船や旅客船の割合が多いのは、沖縄県には離島がたくさんあり、島と島を結ぶ船が多く運航しているからだと思う。
- (い) 海に囲まれている沖縄県は漁業が盛んだから漁船の割合が多いのだと思う。
- (う) 海に囲まれている沖縄県は海外や他県からの貨物はすべて船で運ばれてくるため、貨物船の割合が多いのだと思う。
- (え) 沖縄県は水上レジャーが盛んなことがわかる。

[問8] レポートの(5)にあてはまる言葉はどれですか。

- (あ) 石油を貯める (い) ゴミを堆肥にする
 (う) ガスが入っている (え) 水を貯める

[問9] 下線部②について、沖縄県の伝統的な家屋にみられる工夫として、正しくないものはどれですか。

- (あ) 夏の暑さに備えるため、窓が大きくて風通しがよくなっている。
 (い) 強風に備えるため、屋根の瓦が漆喰で固定されている。
 (う) 夏の暑さに備えるため、玄関やまどが2重になっている。
 (え) 強風に備えるため、周りを石垣や木で囲っている。

2025 夏の沖縄旅行レポート

4. 沖縄県での食事

ゴーヤチャンプルーやソーキそばなど様々な沖縄料理を食べましたが、1番印象に残ったのは③ヤギ汁でした。独特な風味がしておいしかったです。また、ヤギ汁のあとに飲んだ④ジュースも甘くておいしかったです。



ヤギ汁



ジュース

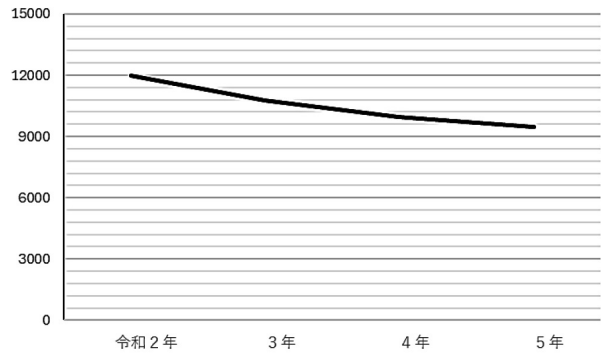
[問10] 下線部③について、りみさんは沖縄県でのヤギの飼養頭数について調べ、表にまとめました。この2つの表から、りみさんがレポートに書いた考察として正しいものはどれですか。

ヤギの飼養頭数上位5都道府県

	飼養頭数(頭)
沖 縄	9964
北 海 道	1578
長 野	1094
愛 知	1091
鹿 児 島	968

(農林水産省消費・安全局動物衛生課「家畜の飼養に係る衛生管理の状況等の公表について」より作成(令和4年))

沖縄県のヤギの飼養頭数の変化



(県農林水産部畜産課(家畜・家きん等飼養状況調査)より作成)

- (あ) ヤギの飼養頭数は沖縄県が最も多く、ヤギの飼養頭数も年々増加していることがわかる。
- (い) ヤギの飼養頭数は沖縄県が最も多いが、ヤギの飼養頭数は年々減少していることがわかる。
- (う) 沖縄県のヤギの飼養頭数が年々減少しているのは、北海道のヤギの飼養頭数が沖縄県を上回っているからである。
- (え) ヤギの飼養頭数が多い上位5都道府県はいずれもヤギ汁を食べる文化があることがわかる。

[問11] 下線部④について、りみさんはこのジュースを飲んだあとに原材料を調べてみました。すると、右の写真のような農作物であることがわかりました。この農作物の名前はどれですか。

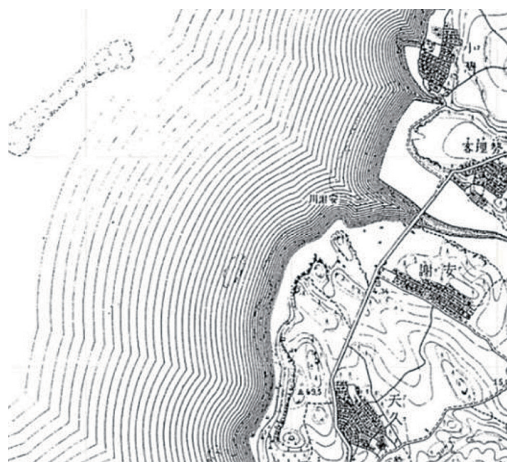


- (あ) パイナップル (い) マンゴー
- (う) パパイヤ (え) さとうきび

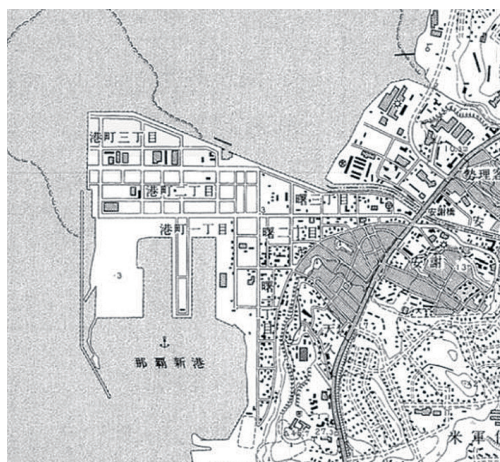
2025 夏の沖縄旅行レポート

5. 沖縄県の今と昔

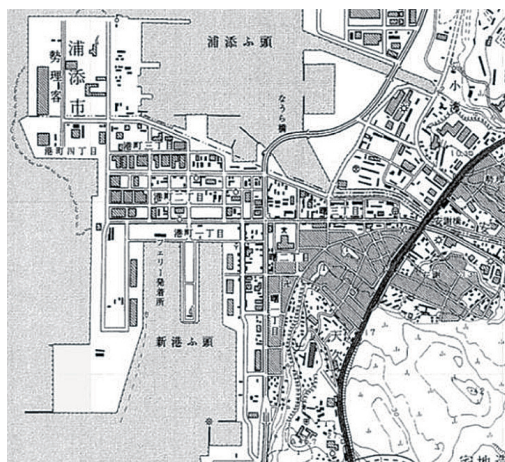
最後に、フェリー乗り場周辺の今と昔を比べてみました。今と昔を比べるために、2万5000分の1の地形図を使いました。



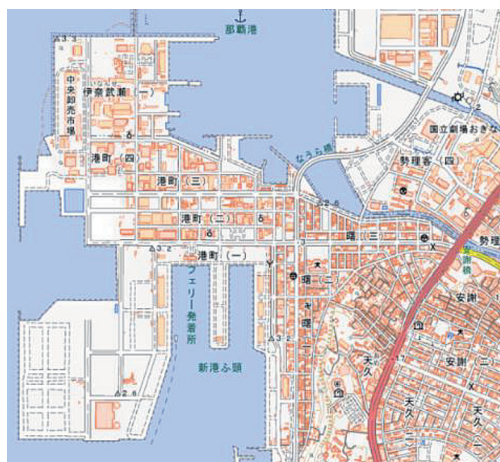
「那覇」大正8年



「那覇」昭和48年



「那覇」平成6年



地理院地図

[問12] 初めて那覇^{しんこう}新港ができたことがわかる地形図はどれですか。

- (あ) 大正8年 (い) 昭和48年 (う) 平成6年 (え) 地理院地図

[問13] 地図中の陸地の面積がもっとも広い年代の地形図はどれですか。

(あ) 大正8年 (い) 昭和48年 (う) 平成6年 (え) 地理院地図

[問14] 初めて「なうら橋」ができたことがわかる地形図はどれですか。

(あ) 大正8年 (い) 昭和48年 (う) 平成6年 (え) 地理院地図

2 日本の歴史における「歴史の中心地」について、あとの問いに答えなさい。

[問1] 古墳時代には古墳の大きさから、日本の中心地がほぼ明らかとなります。

日本最大の古墳はどれですか。

- (あ) 応神天皇陵 (い) 仁徳天皇陵
(う) 箸墓古墳 (え) 高松塚古墳

[問2] 大和朝廷の大王は5～6世紀ごろには九州地方から東北地方南部までの豪族や王たちを従えるようになりました。6世紀に朝鮮半島から伝わったとされるものはどれですか。

- (あ) 米づくり (い) 律令 (う) 茶 (え) 仏教

[問3] 大化の改新の後、日本でも中国にならって最初の本格的な都が飛鳥(奈良県)につくられました。この都を何といいますか。

- (あ) 近江京 (い) 難波宮 (う) 藤原京 (え) 恭仁京

[問4] 都が平城京に移ると、多くのできごとが起こりました。その順番として正しいものはどれですか。

- ① 大仏をつくる詔を出す ② 「古事記」ができる
③ 「日本書紀」ができる ④ 国分寺を建てる詔を出す

- (あ) ①→②→③→④ (い) ②→③→④→①
(う) ③→④→①→② (え) ④→①→②→③

[問5] 平安時代には、藤原氏が権力を持ちました。このことと、最も関係の深い言葉はどれですか。

- (あ) 天皇 (い) 貴族 (う) 僧侶 (え) 武士

[問6] 平安時代には岩手県の平泉^{ひらいずみ}を中心に栄えた一族が知られています。この一族が建てた建築物はどれですか。

- (あ) 平等院鳳凰堂^{びようどういんほうおうどう} (い) 出雲大社^{いずもたいしゃ} (う) 中尊寺金色堂^{こんじきどう} (え) 厳島神社^{いつくしま}

[問7] 源頼朝^{みなもとのよりとも}は、鎌倉^{かまくら}に幕府を開きました。鎌倉を選んだ理由を15字以上30字以内で答えなさい。

[問8] 鎌倉幕府がたおれると、足利氏^{あしかが}が京都に新しく幕府を開きました。この幕府は、3代将軍足利義満^{よしみつ}の屋敷^{やしき}が建てられた町の名前を取って、「〇〇幕府」と呼ばれます。足利氏の幕府を何といいますか。

[問9] 安土桃山時代^{あづちももやま}は、織田信長^{おだのぶなが}や豊臣秀吉^{とよとみひでよし}が活躍^{かつやく}した時代です。そのうち、安土は織田信長の安土城のことを指しています。安土城は現在のどの都道府県にありましたか。

- (あ) 大阪府 (い) 京都府 (う) 滋賀県 (え) 奈良県

[問10] 豊臣秀吉は、中心を大阪城において政治を行いました。次のうち、正しくないものはどれですか。

- (あ) 武家諸法度^{ぶけしよはつと}を定めた (い) 刀狩^{かたながり}をおこなった
(う) 朝鮮に大軍を送った (え) 検地をおこなった

[問11] 安土桃山時代の次は、江戸時代になります。征夷大将軍^{せいゐ}となり、江戸に幕府を開いた人物^{だれ}は誰ですか。

[問12] 江戸時代に「天下の台所」として全国から産物を集めたことで知られる都市はどこですか。

- (あ) 京都 (い) 大阪 (う) 博多 (え) 長崎

[問13] 明治政府は、江戸を東京と改めて政治の中心とする一方で、領土の開発をすすめていきました。次の〔1〕・〔2〕の問いに答えなさい。

〔1〕 蝦夷地^{えぞち}にもともと住んでいた人々を、カタカナ三字で答えなさい。

〔2〕 日清戦争で植民地とした地域はどこですか

(あ) 朝鮮 (い) 琉球^{りゅうきゅう} (う) 奄美^{あまみ} (え) 台湾^{たいわん}

[問14] 太平洋戦争の終わりごろの1945年4月になると、アメリカ軍は日本のある地域に上陸をはじめ、一般^{いっぱん}の市民に加え、今の中学生や高校生くらいの生徒も動員されました。この地域はどこですか。

(あ) 東京 (い) 広島 (う) 沖縄 (え) 長崎

3 下の絵は、参議院議員選挙に出馬したある政党の代表が、税について演説するようすをまとめたものです。絵の情報を見て、あとの問いに答えなさい。(なお、この政党および代表は架空で、実際に、2025年7月に行われた参議院議員選挙には出ていません)



[問1] ①の吹き出しで、「103万円」とは、給与に税がかからない金額を指します。給与にかかる税のことを何とといいますか。

- (あ) 重量税 (い) 所得税 (う) 地方交付税 (え) 酒税

[問2] ②の吹き出しでは、店で売られている商品にかかる税を廃止しようとしています。この税を何とといいますか。解答らんには合うように書きなさい。

[問3] 問2の税は、通常(食料品などの店内飲食を除いて)商品価格の何%ですか。算用数字で解答らんには書きなさい。

[問4] ③の吹き出しは、外国が、日本の商品を輸入する時にかかる税が高くなることを問題にしています。この税を何と呼びますか。

- (あ) 宿泊税 (い) 入湯税 (う) たばこ税 (え) 関税

[問5] ④の吹き出しについて、野党とは、内閣を組織しない政党のことを指します。反対に、内閣をつくり、政治をすすめることのできる政党を何と呼びますか。
漢字2字で解答らん書きなさい。

4 2025年に起こった、世界のできごとについて、あとの問いに答えなさい。

2025 世界のニュース「地球丸ごと ニュース読み取りスペシャル」

自動車社会のニューヨークで 【 1 】税を採用（1月5日）


日本の内閣総理大臣、アメリカ大統領と、ワシントンの【 2 】で会談
（2月6日）

デンマークで 政府による【 3 】制度を廃止（3月12日）

④ オーストラリアの山林 貴重な野生動物が命を失う 山火事の発生で
（4月25日）

⑤ ローマ教会のトップ ついに決定（4月30日）

⑥ 韓国かんこくの新しい大統領だいてうりょうが決まる（6月11日）



JMN 十文字ニュース

[問1] 【 1 】には、アメリカ・ニューヨーク市において深刻な交通問題をあらわす言葉があてはまります。次のうちどれですか。

- (あ) 高齢運転者 (い) 二輪車 (う) 渋滞 (え) 衝突

[問2] 【 2 】には、アメリカ大統領の官邸 (= かんてい・大統領の仕事をするために住む場所) があてはまります。この名前を何といいますか。

- (あ) クレムリン (い) バッキンガム
(う) タージ・マハル (え) ホワイトハウス

[問3] 【 3 】にあてはまる制度は、日本でも、政府から民間の経営に移った
ものです。次のうちどれですか。

- (あ) 戸籍^{こせき} (い) 森林開発 (う) 消防 (え) 郵便^{ゆうびん}

[問4] 下線部④で、山火事により安楽死の処置がとられた動物は何ですか。

- (あ) ハシビロコウ (い) コアラ (う) ニシキヘビ (え) シャチ

[問5] 下線部⑤について、教皇^{きょうこう}を選び出す選挙の名前は何ですか。

- (あ) アミラーゼ (い) キュイジーヌ
(う) コンクラーベ (え) シュトーレン

[問6] 下線部⑥で、新しい大統領は誰ですか。

- (あ) 尹錫銳^{ユンソンニョル} (い) 李在明^{イジェミョン} (う) 朴槿恵^{パククネ} (え) 金正恩^{キムジョンウン}